

Olympiad 2019

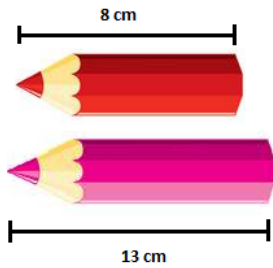
Class 1

Important Information

- All questions carry equal weightage.
- 10 minutes are provided for filling the OMR sheet and reading the instructions.
- Exam duration is 1 hour only.
- Please ensure that this question paper has 50 questions.
- It is divided into the following sections –
 - For class 1st to 5th: Mathematics, Science, English and General Knowledge
 - For class 6th to 10th: Mathematics, English, Science, General Knowledge and Logical Reasoning
- Every question has one correct answer.
- Please read the instructions for answering given on the OMR sheet.
- Candidates must submit a completely filled OMR sheet before leaving the hall.
- There is no negative marking.

Section – A (Mathematics)

1. Avni wants to buy an ice-cream which costs ₹30. She has only ₹13. How much more money would she need to buy the ice-cream?
अवनी एक आइसक्रीम खरीदना चाहती है, जिसकी कीमत 30 रुपये है। उसके पास केवल 13 रुपये हैं। उसे आइसक्रीम खरीदने के लिए कितने और पैसे चाहिए होंगे?
A. ₹43
B. ₹27
C. ₹17
D. ₹18
2. The length of one pencil is 8cm and the other is 13cm.
The total length of the two pencils is _____.
एक पेंसिल की लंबाई 8 सेमी और दूसरी 13 सेमी है।
दो पेंसिलों की कुल लंबाई _____ है।



- A. 20cm
- B. 21cm
- C. 5cm
- D. 19cm

3. Find the missing number.
लापता संख्या का पता लगाएं।

$$\underline{\hspace{1cm}} \times 8 = 16$$

- A. 3
- B. 128
- C. 4
- D. 2

4. Which basket has the maximum number of apples?

BASKET A



BASKET B



BASKET C



- A. Basket A
- B. Basket B
- C. Basket C
- D. Both Basket A and C have equal apples

किस टोकरी में सेब की अधिकतम संख्या है?

A



B



C



- A. टोकरी A
- B. टोकरी B
- C. टोकरी C

D. टोकरी A और C में बराबर सेब हैं

5. Which of these are arranged in ascending order?

इनमें से कौन आरोही क्रम में व्यवस्थित हैं?

- A. 5cm, 7cm, 4cm, 6cm
- B. 2cm, 4cm, 7cm, 5cm
- C. 3cm, 6cm, 9cm, 12cm
- D. 8cm, 6cm, 4cm, 2cm

6. How many lines are used to make the given image?

दी गई छवि बनाने के लिए कितनी लाइनों का उपयोग किया गया है?



- A. 3
- B. 9
- C. 7
- D. 11

7. Complete the given sequence.

दिए गए अनुक्रम को पूरा करें।

45, 51, _____, 63, 69

- A. 52
- B. 55
- C. 57
- D. 54

8. Sam buys a pencil for ₹ 3, a pencil box for ₹ 40, an eraser for ₹ 2 and a box of colours for ₹ 30. Find the total money he spends on buying all the items.

सैम 3 रुपये में एक पेंसिल, 40 रुपये में एक पेंसिल बॉक्स, 2 रुपये में एक इरेज़र और 30 रुपये में रंगों का एक बॉक्स खरीदता है। सभी वस्तुओं को खरीदने पर खर्च किए गए कुल पैसे का पता लगाएं।


- A. ₹70
- B. ₹75
- C. ₹73
- D. ₹72

9. Ravi has 85 chocolates. He wants to put all these chocolates in two boxes. He puts 40 chocolates in one box. How many chocolates would he put in the other box?

रवि के पास 85 चॉकलेट हैं। वह इन सभी चॉकलेट को दो बॉक्स में डालना चाहता है। वह एक बॉक्स में 40 चॉकलेट डालता है। वह दूसरे बॉक्स में कितनी चॉकलेट डालेगा?


- A. 40
- B. 45
- C. 125
- D. 35

10. Sam, Ritu, Bob and Zia participated in a race competition. From the image given below, who is at the third position in the race?



- A. Zia
- B. Bob
- C. Sam
- D. Ritu

सैम, रितु, बॉब और ज़िया ने एक दौड़ प्रतियोगिता में भाग लिया। नीचे दी गई छवि से पता लगाएं कि दौड़ में तीसरे स्थान पर कौन है?



- A. ज़िया
- B. बॉब
- C. सैम
- D. रितु

11. How can we partition 87 into tens and ones?

- A. $87 = 8 \text{ ones} + 7 \text{ tens}$
- B. $87 = 80 + 7$
- C. $87 = 8 \text{ tens} + 7 \text{ ones}$
- D. Both B and C

हम 87 को दहाई और इकाई में कैसे विभाजित कर सकते हैं?

- A. $87 = 8 \text{ इकाई} + 7 \text{ दहाई}$
- B. $87 = 80 + 7$
- C. $87 = 8 \text{ दहाई} + 7 \text{ इकाई}$
- D. B और C दोनों

12. Find the missing number.

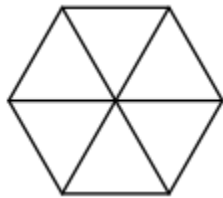
लापता संख्या का पता लगाएं।

$$100 - \underline{\quad} = 67$$

- A. 37
- B. 167
- C. 43
- D. 33

13. How many triangles are used to form the given shape?

दी गई आकृति बनाने के लिए कितने त्रिभुज का उपयोग किया गया है?



- A. 3
- B. 6
- C. 5
- D. 4


14. Which of the following statements is incorrect?

- A. Sum of 3, 4 and 8 is equal to 15
- B. The difference of 23 and 13 is 10
- C. 34 has 4 tens
- D. 41 comes after 40

निम्नलिखित में से कौन सा कथन गलत है?

- A. 3, 4 और 8 का योग 15 के बराबर है
- B. 23 और 13 का अंतर 10 है
- C. 34 में 4 दहाई है
- D. 41, 40 के बाद आता है

15. Which of the shapes is missing in the given image?



- A. Circle
- B. Triangle
- C. Square
- D. Rectangle

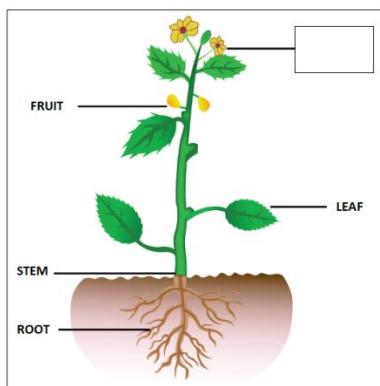
दी गई छवि में कौन सी आकृति गायब है?



- A. वृत्त
- B. त्रिकोण
- C. वर्ग
- D. आयत

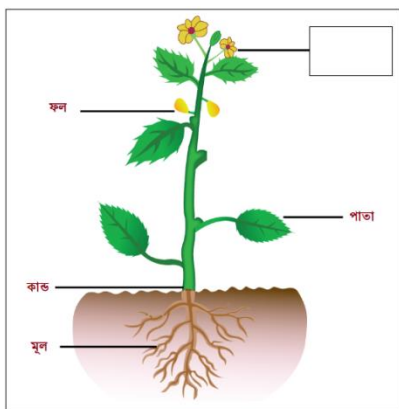
Section – B (Science)

16. A plant is given below. A part of the plant is not labelled. Which part of the plant is not labelled?



- A. Branch
- B. Seed
- C. Bud
- D. Flower

पौधे के कुछ हिस्सों को छवि में दिखाए अनुसार लेबल किया गया है। पौधे का एक हिस्सा लेबल नहीं किया गया है। पौधे के किस भाग पर लेबल नहीं है?



- A. शाखा
- B. बीज
- C. कली
- D. फूल

17. Which part of our body helps us to smell food?

- A. Ear
- B. Nose
- C. Hands
- D. Eyes

हमारे शरीर का कौन सा हिस्सा हमें भोजन को सूंघने में मदद करता है?

- A. कान
- B. नाक
- C. हाथ
- D. आंखें

18. I eat chicken, fish and eggs. I am a _____.



- A. vegetarian
- B. eggetarian
- C. non vegetarian
- D. vegan

मैं चिकन, मछली और अंडे खाता हूँ। मैं एक _____ हूँ।



- A. शाकाहारी
- B. अण्डे का सेवन करने वाला
- C. मांसाहारी
- D. शुद्ध शाकाहारी

19. In which season do we use umbrella?



- A. Summer
- B. Winter
- C. Rainy
- D. Autumn

हम किस मौसम में छतरी का उपयोग करते हैं?



- A. गर्मी
- B. सर्दी
- C. वर्षा
- D. पतझड़

20. Which oil cannot be obtained from plants?

- A. Mustard Oil
- B. Olive Oil
- C. Coconut Oil
- D. Kerosene Oil

पौधों से कौन सा तेल प्राप्त नहीं किया जा सकता है?

- A. सरसों का तेल
- B. जैतून का तेल
- C. नारियल का तेल
- D. मिट्टी का तेल

21. We should not waste paper as it is made from _____.

- A. plastic
- B. charcoal
- C. wood
- D. steel

हमें कागज बर्बाद नहीं करना चाहिए क्योंकि यह _____ से बना है।

- A. प्लास्टिक
- B. चारकोल
- C. लकड़ी
- D. इस्पात

22. I am a _____.



- A. teacher
- B. police
- C. nurse
- D. maid

मैं एक _____ हूँ।



- A. अध्यापक
- B. पुलिस

- C. नर्स
- D. दासी

23. Which of these activities should we do daily?

- A. Brush our teeth twice
- B. Take a bath
- C. Comb our hair
- D. All of the above

हमें इनमें से कौन सी गतिविधियाँ प्रतिदिन करनी चाहिए?

- A. दांतों को दो बार ब्रश करें
- B. स्नान करें
- C. बाल कंघी करें
- D. उपरोक्त सभी

24. Which colour of traffic signal allows you to go?

- A. Red
- B. Orange
- C. Green
- D. Yellow

ट्रैफ़िक सिग्नल का कौन सा रंग आपको जाने की अनुमति देता है?

- A. लाल
- B. नारंगी
- C. हरा
- D. पीला

25. Lion produces _____ sound.



- A. Roar
- B. Trumpet
- C. Croak

D. Moo

सिंह _____ ध्वनि उत्पन्न करता है।



- A. गर्जन
- B. तुरही
- C. क्रोक
- D. राँभना

26. The home of rabbit is called as _____.



- A. den
- B. stable
- C. grassland
- D. burrow

खरगोशकेघरको _____ कहाजाताहै।



- A. मांद

- B. स्थिर
- C. चारागाह
- D. बुरो

27. _____ is used to cross roads.

- A. Crossing
- B. Lines
- C. Zebra Crossing
- D. White Lines

_____ का उपयोग सड़कों को पार करने के लिए किया जाता है।

- a. चौराहा
- b. पंक्तियां
- c. ज़ेबरा क्रॉसिंग
- d. सफेद रेखाएँ

28. Which of the following habits is bad?

- A. Throwing garbage in the dustbin
- B. Feeding birds or animals
- C. Washing hands before eating
- D. Waste food by taking excess food than needed

निम्नलिखित में से कौन सी आदत बुरी है?

- A. कूड़े दान में कचरा फेंकना
- B. पक्षियों या जानवरों को खिलाना
- C. खाने से पहले हाथ धोना
- D. आवश्यकता से अधिक भोजन लेकर भोजन बर्बाद करें

29. You can see me in the night. I am round in shape. Who am I?


- A. Star
- B. Sun
- C. Moon
- D. None of these

आप मुझे रात में देख सकते हैं। मैं आकार में गोल हूँ। मैं कौन हूँ ?

- A. तारा
- B. सूर्य
- C. चांद


D. इनमें से कोई नहीं

30. Select the odd one out.



- A. Dog
- B. Cow
- C. Rabbit
- D. Fish

विषम का चयन करें।



- A. कुत्ता
- B. गाय
- C. खरगोश
- D. मछली

Section – C (English)

31. Identify the picture and fill in the blanks to complete the spelling.



BALL _ _N

- A. BALLUUN
- B. BALLOUN
- C. BALLOON
- D. BALLOUN

32. Unscramble the letters to form a meaningful word.

UTERTBYLF

- A. UTTEBRYLF
- B. BUTTERFYL
- C. BUTERTFLY
- D. BUTTERFLY

33. Three _____ were walking in the garden.

- A. man
- B. mans
- C. men
- D. men's

34. Which of the given options has the same meaning (synonym) of the word **DIFFICULT**?

- A. Easy
- B. Soft
- C. Smooth
- D. Hard

Read the given passage and answer questions 17 and 18:

Diwali is a festival of lights. It is celebrated by Hindus. On this day, Lord Rama came back home after 14 years of exile. Diwali festival has an ancient origin and celebrates the victory of good over bad. On this festival we share sweets with each other.

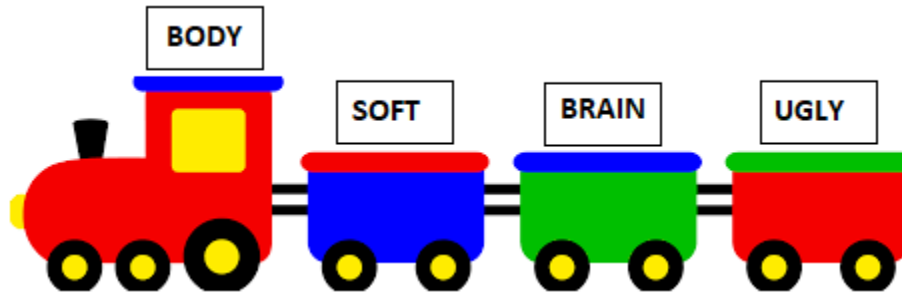
35. Diwali is the festival of _____.

- A. colours
- B. fruits
- C. lights
- D. flowers

36. What do we share with each other on Diwali?

- A. lights
- B. sweets
- C. fruits
- D. victory

37. Which of the words carried by the train has two vowels?



- A. Body
- B. Soft
- C. Brain
- D. Ugly

38. Arrange the jumbled words to make a meaningful sentence.

is name what your?

- A. What is your name?
- B. What is name your?
- C. What name is your?
- D. What your name is?

39. Fatima and Rita are best friends. _____ eat together.

- A. She
- B. We
- C. They
- D. Both

40. Which of the given options is correct for the given picture?



- A. The dog is at the table.
- B. The dog is in the table.
- C. The dog is under the table.
- D. The dog is on the table.

Section – D (General Knowledge)

41. _____ is also called a blue planet.



- A. Sun
- B. Venus
- C. Water
- D. Earth

_____ को नीला ग्रह भी कहा जाता है।



- A. सूर्य
- B. शुक्र
- C. पानी
- D. पृथ्वी

42. Select the odd one out.

- A. Ludo
- B. Carrom
- C. Cricket
- D. Chess

विषम का चयन करें।

- A. लुडो
- B. कैरम
- C. क्रिकेट

D. शतरंज

43. Who is the current Prime Minister of India?

- A. Manmohan Singh
- B. Pranab Mukherjee
- C. Arvind Kejriwal
- D. Narendra Modi

भारत के वर्तमान प्रधानमंत्री कौन हैं?

- A. मनमोहन सिंह
- B. प्रणब मुखर्जी
- C. अरविंद केजरीवाल
- D. नरेंद्र मोदी

44. There are _____ spokes in the chakra of our national flag.
हमारे राष्ट्रीय ध्वज के चक्र में _____ स्पोक्स होते हैं।



- A. 20
- B. 24
- C. 22
- D. 25

45. Identify the festival shown in the picture.



- A. Eid
- B. Diwali
- C. Dusshera
- D. RakshaBandhan

चित्र में दिखाए गए त्योहार की पहचान करें।



- A. ईद
- B. दिवाली
- C. दशहरा
- D. रक्षाबंधन

46. Name the monument shown in the picture.



- A. Taj Mahal
- B. Lotus Temple
- C. Jantar Mantar

D. Jama Masjid

चित्र में दिखाए गए स्मारक का नाम बताइए।



- A. ताज महल
- B. कमल मंदिर
- C. जंतर मंतर
- D. जामा मस्जिद

47. Why is 15th August known as Independence Day?

- A. because India got independent from the British rule
- B. because India won a war against China
- C. because India won a war against Pakistan
- D. None of these

15 अगस्त को स्वतंत्रता दिवस के रूप में क्यों जाना जाता है?

- A. क्योंकि भारत ब्रिटिश शासन से स्वतंत्र हो गया था
- B. क्योंकि भारत ने चीन के खिलाफ युद्ध जीता था
- C. क्योंकि भारत ने पाकिस्तान के खिलाफ युद्ध जीता था
- D. इनमें से कोई नहीं

48. Who mends our shoes?



- A. Carpenter
- B. Mason
- C. Painter
- D. Cobbler

हमारे जूते कौन बांटता है?



- A. बढ़ई
- B. मेसन
- C. पेंटर
- D. मोची

49. _____ is the National Song of India.

- A. Jana gana mana
- B. Vande Matram
- C. Both A and B
- D. None of the above

_____ भारत का राष्ट्रीय गीत है।

- A. जन गण मन
- B. वन्दे मातरम
- C. A और B दोनों
- D. उपरोक्त में से कोई नहीं

50. What is your mother's mother called?

- A. Paternal grandfather
- B. Paternal grandmother
- C. Maternal grandfather
- D. Maternal grandmother

आपकी माँ की माँ को क्या कहा जाता है?

- A. पैतृक दादा
- B. पैतृक दादी
- C. मातृ दादा
- D. मातृ दादी